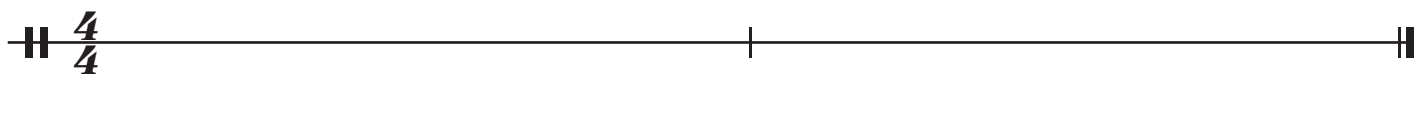


**D1-Prüfungsaufgabe 03 - Rythmusdiktat D1**  
**Aufgabenblatt 01**

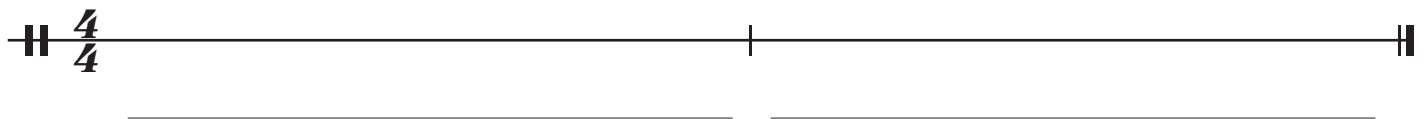
**Rythmusdiktat Nr. 1**

Notiere den Rythmus und schreibe die Zählzeiten darunter!

$\text{H } \frac{4}{4}$  

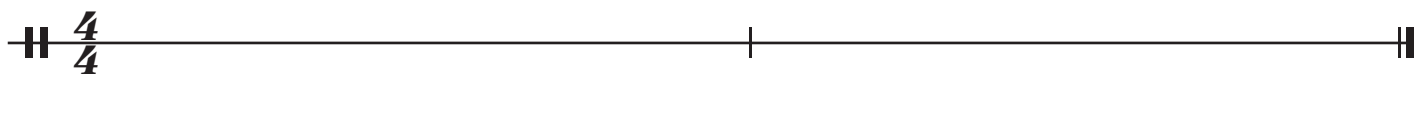
**Rythmusdiktat Nr. 2**

Notiere den Rythmus und schreibe die Zählzeiten darunter!

$\text{H } \frac{4}{4}$  

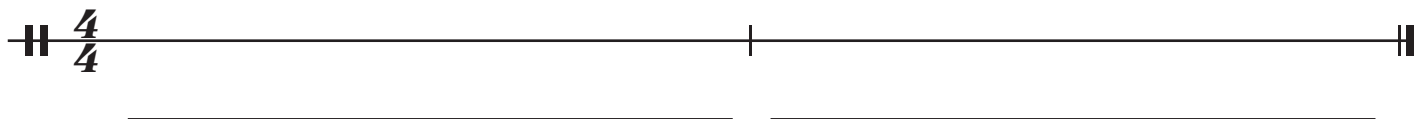
**Rythmusdiktat Nr. 3**

Notiere den Rythmus und schreibe die Zählzeiten darunter!

$\text{H } \frac{4}{4}$  

**Rythmusdiktat Nr. 4**

Notiere den Rythmus und schreibe die Zählzeiten darunter!

$\text{H } \frac{4}{4}$  

**Rythmusdiktat Nr. 5**

Notiere den Rythmus und schreibe die Zählzeiten darunter!

$\text{H } \frac{4}{4}$  